


Aufgabenkarten

HANDELND RECHNEN MIT BAUKLÖTZEN

im Zahlenraum 10

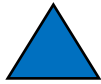
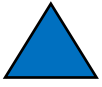


PLUS UND MINUS
UND WIE VIEL IST?
WENIGER WIE VIEL IST?



Plus und Minus



1



= ?

Plus und Minus


2



= ?

Plus und Minus


3



= ?

Plus und Minus

4



= ?

Plus und Minus

5



= ?

Plus und Minus

6



= ?

Lösung Plus und Minus

2

$$2 + 1 = 3$$

$$2 - 1 = 1$$

Lösung Plus und Minus

1

$$1 + 1 = 2$$

$$1 - 1 = 0$$

Lösung Plus und Minus

4

$$1 + 0 = 1$$

$$1 - 0 = 1$$

Lösung Plus und Minus

3

$$2 + 0 = 2$$

$$2 - 0 = 2$$

Lösung Plus und Minus

6

$$3 + 1 = 4$$

$$3 - 1 = 2$$

Lösung Plus und Minus


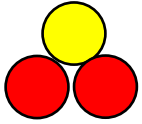
5

$$2 + 2 = 4$$

$$2 - 2 = 0$$

Plus und Minus

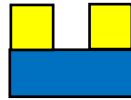
7



= ?

Plus und Minus

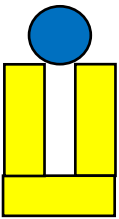
8



= ?

Plus und Minus

9



= ?

Plus und Minus

10



= ?

Plus und Minus


11



= ?

Plus und Minus

12



= ?

Lösung Plus und Minus

8

$$3 + 2 = 5$$

$$3 - 2 = 1$$

Lösung Plus und Minus

7

$$3 + 2 = 5$$

$$3 - 2 = 1$$

Lösung Plus und Minus

10

$$4 + 0 = 4$$

$$4 - 0 = 4$$

Lösung Plus und Minus

9

$$4 + 1 = 5$$

$$4 - 1 = 3$$

Lösung Plus und Minus

12

$$4 + 1 = 5$$

$$4 - 1 = 3$$

Lösung Plus und Minus


11

$$4 + 2 = 6$$

$$4 - 2 = 2$$

Plus und Minus

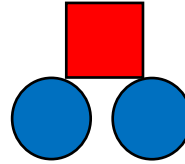
13



= ?

Plus und Minus


14



= ?

Plus und Minus

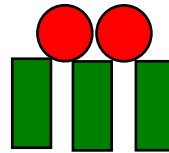
15



= ?

Plus und Minus

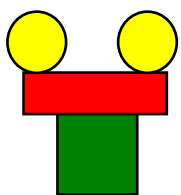
16



= ?

Plus und Minus

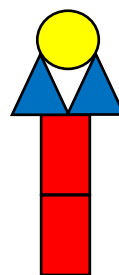
17



= ?

Plus und Minus

18



= ?

Lösung Plus und Minus

14

$$3 + 1 = 4$$

$$3 - 1 = 2$$

Lösung Plus und Minus

13

$$3 + 0 = 3$$

$$3 - 0 = 3$$

Lösung Plus und Minus

16

$$5 + 0 = 5$$

$$5 - 0 = 5$$

Lösung Plus und Minus

15

$$4 + 1 = 5$$

$$4 - 1 = 3$$

Lösung Plus und Minus

18

$$5 + 1 = 6$$

$$5 - 1 = 4$$

Lösung Plus und Minus

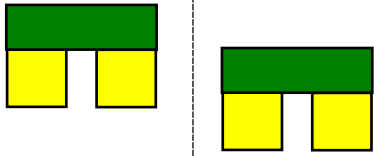
17

$$4 + 2 = 6$$

$$4 - 2 = 2$$

Plus und Minus

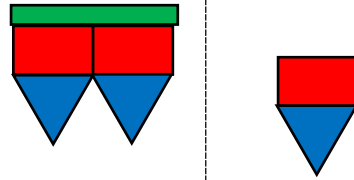
19



= ?

Plus und Minus

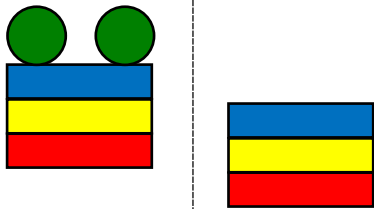
20



= ?

Plus und Minus

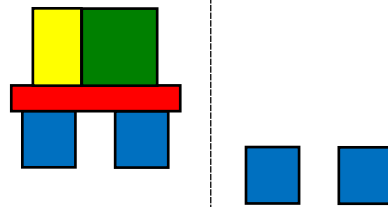
21



= ?

Plus und Minus

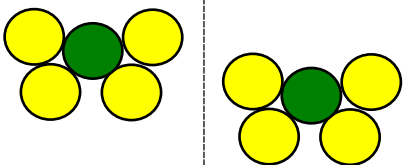
22



= ?

Plus und Minus

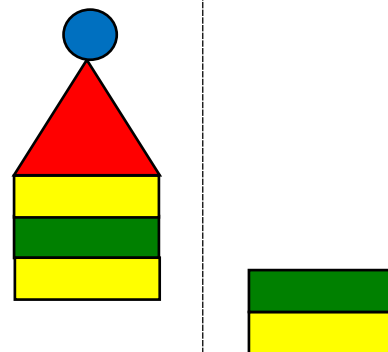
23



= ?

Plus und Minus

24



= ?

Lösung Plus und Minus

20

$$5 + 2 = 7$$

$$5 - 2 = 3$$

Lösung Plus und Minus

19

$$3 + 3 = 6$$

$$3 - 3 = 0$$

Lösung Plus und Minus

22

$$5 + 2 = 7$$

$$5 - 2 = 3$$

Lösung Plus und Minus

21

$$5 + 3 = 8$$

$$5 - 3 = 2$$

Lösung Plus und Minus

24

$$5 + 2 = 7$$

$$5 - 2 = 3$$

Lösung Plus und Minus

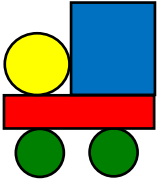
23

$$5 + 5 = 10$$

$$5 - 5 = 0$$

Plus und Minus

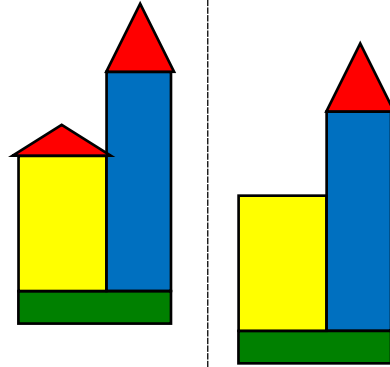
25



= ?

Plus und Minus

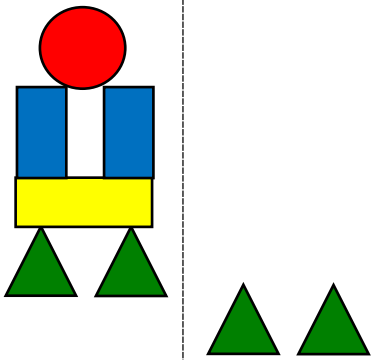
26



= ?

Plus und Minus

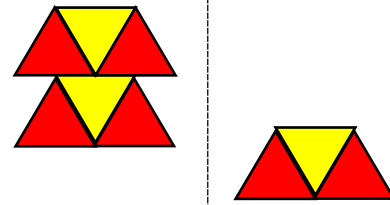
27



= ?

Plus und Minus

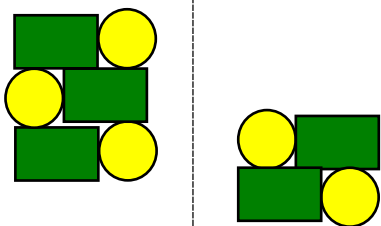
28



= ?

Plus und Minus

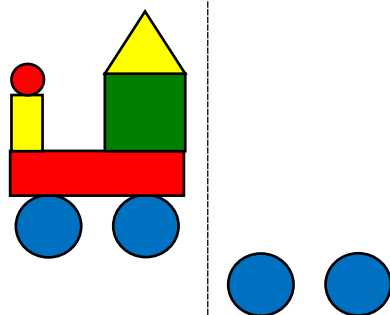
29



= ?

Plus und Minus

30



= ?

Lösung Plus und Minus

26

$$5 + 4 = 9$$

$$5 - 4 = 1$$

Lösung Plus und Minus

25

$$5 + 0 = 5$$

$$5 - 0 = 5$$

Lösung Plus und Minus

28

$$6 + 3 = 9$$

$$6 - 3 = 3$$

Lösung Plus und Minus

27

$$6 + 2 = 8$$

$$6 - 2 = 4$$

Lösung Plus und Minus

30

$$7 + 2 = 9$$

$$7 - 2 = 5$$

Lösung Plus und Minus

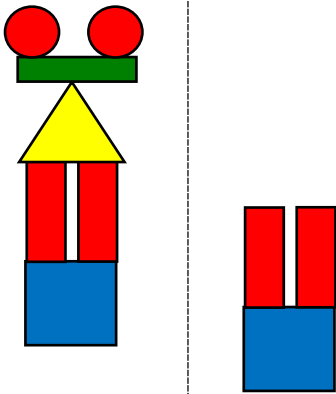
29

$$6 + 4 = 10$$

$$6 - 4 = 2$$

Plus und Minus

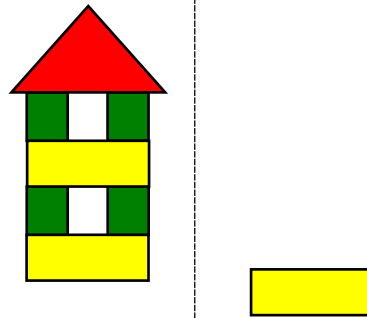
31



= ?

Plus und Minus

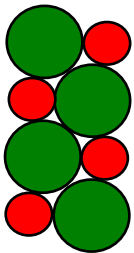
32



= ?

Plus und Minus

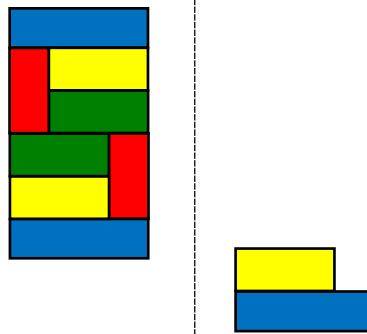
33



= ?

Plus und Minus

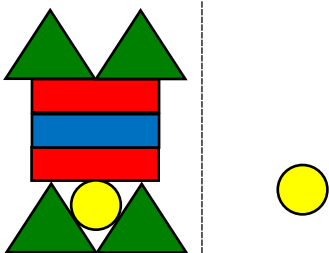
34



= ?

Plus und Minus

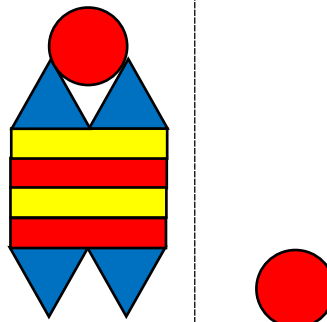
35



= ?

Plus und Minus

36



= ?

Lösung Plus und Minus

32

$$7 + 1 = 8$$

$$7 - 1 = 6$$

Lösung Plus und Minus

31

$$7 + 3 = 10$$

$$7 - 3 = 4$$

Lösung Plus und Minus

34

$$8 + 2 = 10$$

$$8 - 2 = 6$$

Lösung Plus und Minus

33

$$8 + 0 = 8$$

$$8 - 0 = 8$$

Lösung Plus und Minus

36

$$9 + 1 = 10$$

$$9 - 1 = 8$$

Lösung Plus und Minus

35

$$8 + 1 = 9$$

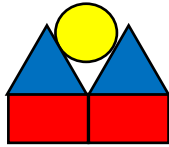
$$8 - 1 = 7$$

Und wie viel ist?

1



+ ?

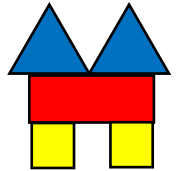


Und wie viel ist?

2



+ ?

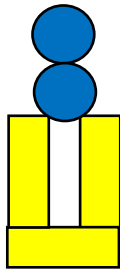


Und wie viel ist?

3




+ ?




Und wie viel ist?

4



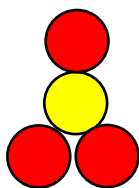
+ ?



Und wie viel ist?

5

+ ?

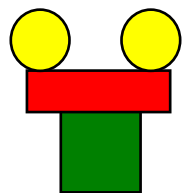


Und wie viel ist?

6



+ ?



Lösung: Und wie viel ist?

2

$$3 + 2 = 5$$

Lösung: Und wie viel ist?

1

$$2 + 3 = 5$$

Lösung: Und wie viel ist?

4

$$2 + 2 = 4$$

Lösung: Und wie viel ist?

3

$$1 + 4 = 5$$

Lösung: Und wie viel ist?

6

$$1 + 3 = 4$$

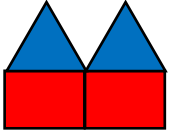
Lösung: Und wie viel ist?

5

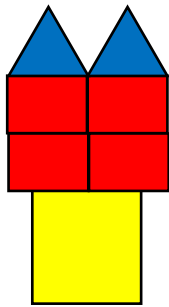
$$0 + 4 = 4$$

Und wie viel ist?

7



+ ?

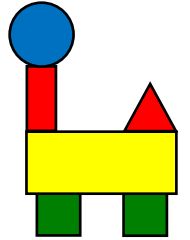


Und wie viel ist?

8




+ ?

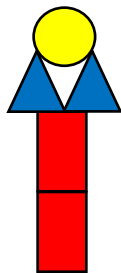


Und wie viel ist?

9




+ ?

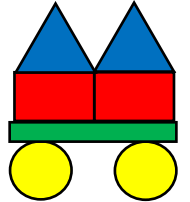


Und wie viel ist?

10




+ ?

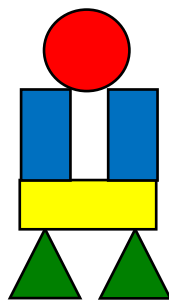


Und wie viel ist?

11



+ ?

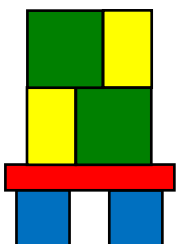


Und wie viel ist?

12



+ ?



Lösung: Und wie viel ist?

8

$$2 + 4 = 6$$

Lösung: Und wie viel ist?

7

$$4 + 3 = 7$$

Lösung: Und wie viel ist?

10

$$2 + 5 = 7$$

Lösung: Und wie viel ist?

9

$$2 + 3 = 5$$

Lösung: Und wie viel ist?

12

$$3 + 4 = 7$$

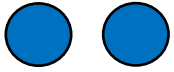
Lösung: Und wie viel ist?

11


$$2 + 4 = 6$$

Und wie viel ist?

13



+ ?




Und wie viel ist?

14




+ ?




Und wie viel ist?

15




+ ?




Und wie viel ist?

16

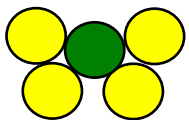


+ ?

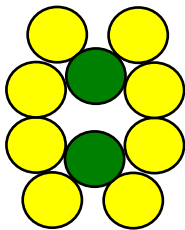


Und wie viel ist?

17



+ ?




Und wie viel ist?

18



+ ?



Lösung: Und wie viel ist?

14

$$3 + 3 = 6$$

Lösung: Und wie viel ist?

13

$$2 + 5 = 7$$

Lösung: Und wie viel ist?

16

$$3 + 6 = 9$$

Lösung: Und wie viel ist?

15

$$4 + 3 = 7$$

Lösung: Und wie viel ist?

18

$$2 + 6 = 8$$

Lösung: Und wie viel ist?

17

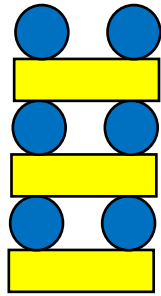
$$5 + 5 = 10$$

Und wie viel ist?

19



+ ?

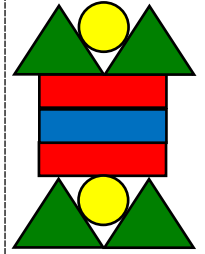


Und wie viel ist?

20

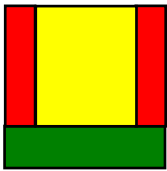


+ ?




Und wie viel ist?

21

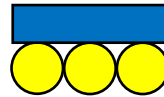


+ ?




Und wie viel ist?

22




+ ?

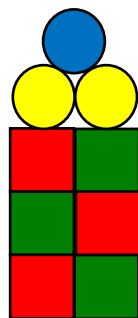


Und wie viel ist?

23

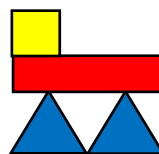


+ ?

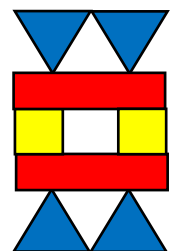


Und wie viel ist?

24



+ ?



Lösung: Und wie viel ist?

20

$$3 + 6 = 9$$

Lösung: Und wie viel ist?

19

$$1 + 8 = 9$$

Lösung: Und wie viel ist?

22

$$4 + 6 = 10$$

Lösung: Und wie viel ist?

21

$$4 + 4 = 8$$

Lösung: Und wie viel ist?

24

$$4 + 4 = 8$$


Lösung: Und wie viel ist?

23


$$3 + 6 = 9$$

Und wie viel ist?

25

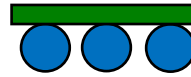


+ ?




Und wie viel ist?

26

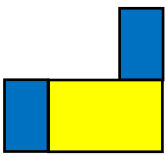


+ ?




Und wie viel ist?

27




+ ?




Und wie viel ist?

28



+ ?




Und wie viel ist?

29



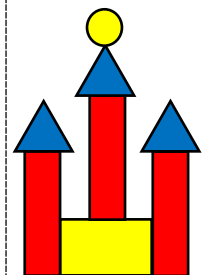
+ ?



Und wie viel ist?

30

+ ?



Lösung: Und wie viel ist?

26

$$4 + 5 = 9$$

Lösung: Und wie viel ist?

25

$$4 + 6 = 10$$

Lösung: Und wie viel ist?

28

$$2 + 7 = 9$$

Lösung: Und wie viel ist?

27

$$3 + 5 = 8$$

Lösung: Und wie viel ist?

30

$$0 + 8 = 8$$


Lösung: Und wie viel ist?

29


$$1 + 8 = 9$$

Und wie viel ist?

31



+ ?

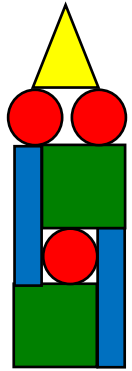


Und wie viel ist?

32

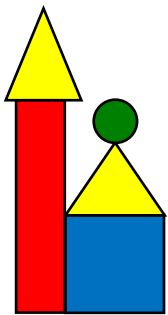


+ ?

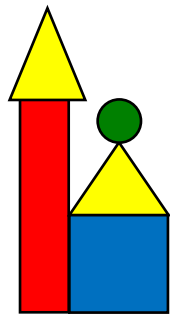


Und wie viel ist?

33




+ ?



Und wie viel ist?

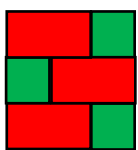
34

+ ?

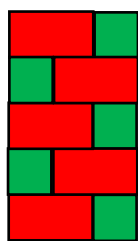


Und wie viel ist?

35

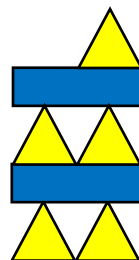


+ ?

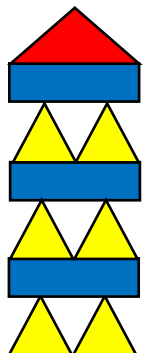


Und wie viel ist?

36



+ ?



Lösung: Und wie viel ist?

32

$$1 + 7 = 8$$

Lösung: Und wie viel ist?

31

$$3 + 7 = 10$$

Lösung: Und wie viel ist?

34

$$0 + 7 = 7$$

Lösung: Und wie viel ist?

33

$$5 + 0 = 5$$

Lösung: Und wie viel ist?

36

$$7 + 3 = 10$$

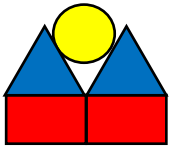
Lösung: Und wie viel ist?

35

$$6 + 4 = 10$$

Weniger wie viel ist?

1




- ?

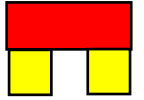


Weniger wie viel ist?

2

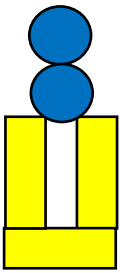


- ?



Weniger wie viel ist?

3




- ?

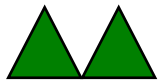


Weniger wie viel ist?

4

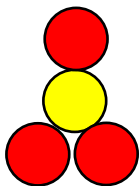


- ?



Weniger wie viel ist?

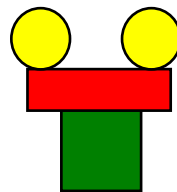
5



- ?

Weniger wie viel ist?

6



- ?



Lösung: Weniger wie viel ist?

2

$$5 - 2 = 3$$

Lösung: Weniger wie viel ist?

1

$$5 - 3 = 2$$

Lösung: Weniger wie viel ist?

4

$$4 - 2 = 2$$

Lösung: Weniger wie viel ist?

3

$$5 - 4 = 1$$

Lösung: Weniger wie viel ist?

6

$$4 - 3 = 1$$

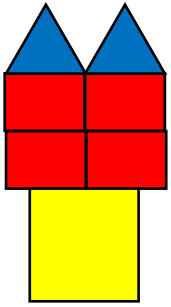
Lösung: Weniger wie viel ist?

5

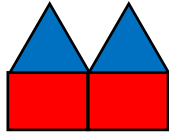
$$4 - 4 = 0$$

Weniger wie viel ist?

7

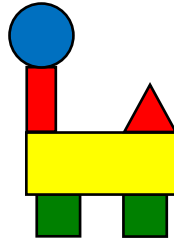


- ?



Weniger wie viel ist?

8

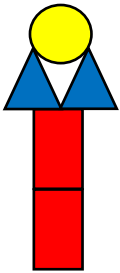


- ?




Weniger wie viel ist?

9

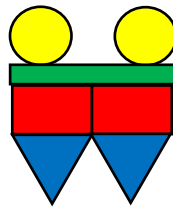


- ?

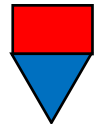


Weniger wie viel ist?

10

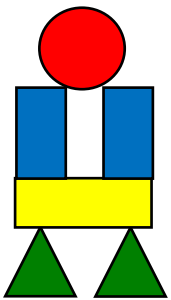


- ?



Weniger wie viel ist?

11

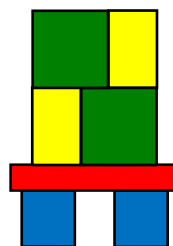


- ?

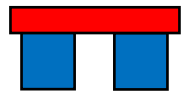


Weniger wie viel ist?

12



- ?



Lösung: Weniger wie viel ist?

8

$$6 - 4 = 2$$

Lösung: Weniger wie viel ist?

7

$$7 - 3 = 4$$

Lösung: Weniger wie viel ist?

10

$$7 - 5 = 2$$

Lösung: Weniger wie viel ist?

9

$$5 - 3 = 2$$

Lösung: Weniger wie viel ist?

12

$$7 - 4 = 3$$

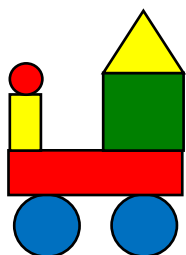
Lösung: Weniger wie viel ist?

11


$$6 - 4 = 2$$

Weniger wie viel ist?

13




- ?



Weniger wie viel ist?

14

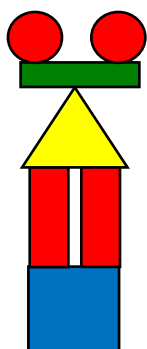


- ?




Weniger wie viel ist?

15




- ?



Weniger wie viel ist?

16

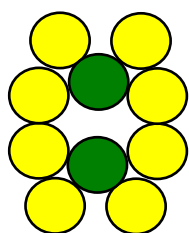


- ?

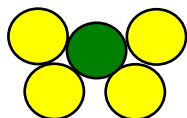


Weniger wie viel ist?

17



- ?



Weniger wie viel ist?

18



- ?



Lösung: Weniger wie viel ist?

14

$$6 - 3 = 3$$

Lösung: Weniger wie viel ist?

13

$$7 - 5 = 2$$

Lösung: Weniger wie viel ist?

16

$$9 - 6 = 3$$

Lösung: Weniger wie viel ist?

15

$$7 - 3 = 4$$

Lösung: Weniger wie viel ist?

18

$$8 - 6 = 2$$

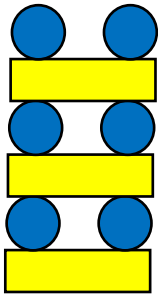
Lösung: Weniger wie viel ist?

17

$$10 - 5 = 5$$

Weniger wie viel ist?

19

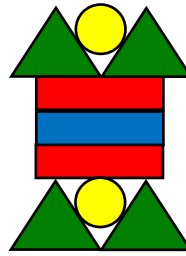


- ?



Weniger wie viel ist?

20

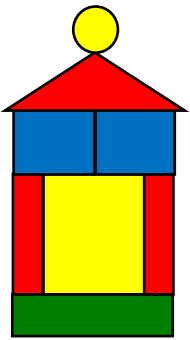


- ?

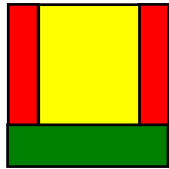


Weniger wie viel ist?

21




- ?

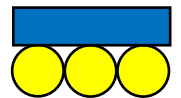


Weniger wie viel ist?

22

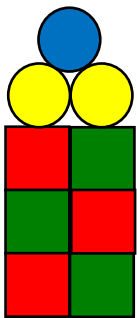


- ?

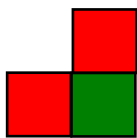


Weniger wie viel ist?

23

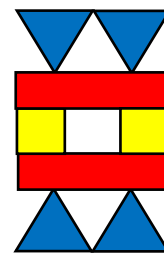


- ?

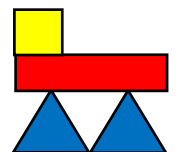


Weniger wie viel ist?

24



- ?



Lösung: Weniger wie viel ist?

20

$$9 - 6 = 3$$

Lösung: Weniger wie viel ist?

19

$$9 - 8 = 1$$

Lösung: Weniger wie viel ist?

22

$$10 - 6 = 4$$

Lösung: Weniger wie viel ist?

21

$$8 - 4 = 4$$

Lösung: Weniger wie viel ist?

24

$$8 - 4 = 4$$


Lösung: Weniger wie viel ist?

23


$$9 - 6 = 3$$

Weniger wie viel ist?

25




- ?

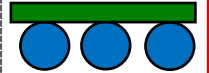


Weniger wie viel ist?

26

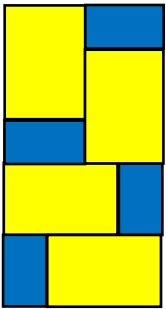


- ?

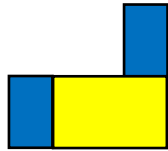


Weniger wie viel ist?

27




- ?




Weniger wie viel ist?

28




- ?



Weniger wie viel ist?

29

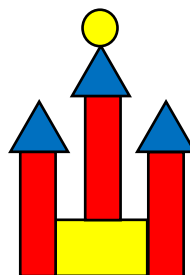


- ?



Weniger wie viel ist?

30



- ?

Lösung: Weniger wie viel ist?

26

$$9 - 5 = 4$$

Lösung: Weniger wie viel ist?

25

$$10 - 6 = 4$$

Lösung: Weniger wie viel ist?

28

$$9 - 7 = 2$$

Lösung: Weniger wie viel ist?

27

$$8 - 5 = 3$$

Lösung: Weniger wie viel ist?

30

$$8 - 8 = 0$$


Lösung: Weniger wie viel ist?

29


$$9 - 8 = 1$$

Weniger wie viel ist?

31

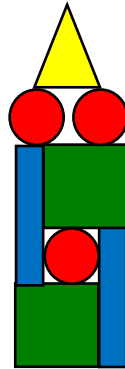


- ?



Weniger wie viel ist?

32

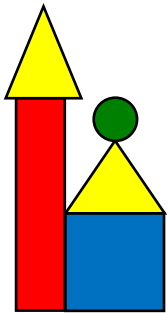


- ?

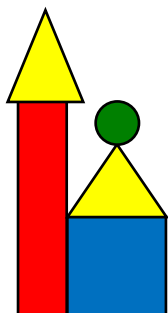


Weniger wie viel ist?

33




- ?



Weniger wie viel ist?

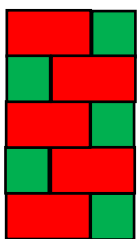
34



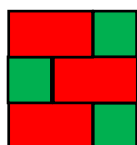
- ?

Weniger wie viel ist?

35




- ?

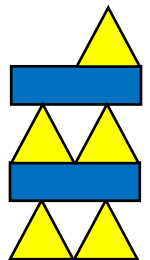


Weniger wie viel ist?

36



- ?



Lösung: Weniger wie viel ist?

32

$$8 - 7 = 1$$

Lösung: Weniger wie viel ist?

31

$$10 - 7 = 3$$

Lösung: Weniger wie viel ist?

34

$$7 - 7 = 0$$

Lösung: Weniger wie viel ist?

33

$$5 - 0 = 5$$

Lösung: Weniger wie viel ist?

36

$$10 - 3 = 7$$

Lösung: Weniger wie viel ist?

35

$$10 - 4 = 6$$

Das Heft kann doppelseitig ausgedruckt und laminiert werden.

Auf den ausgeschnittenen Karten steht auf der Vorderseite die Aufgabe, auf der Rückseite die Lösung.

Zielgruppe: 1. Klasse

Bezug Lehrplan 21

MA.1.A.1a

Die Schülerinnen und Schüler können Anzahlen mit verschieden angeordneten Elementen vergleichen.

MA.1.A.1b

Die Schülerinnen und Schüler verstehen und verwenden die Begriffe plus, minus, gleich und die Symbole $+$, $-$, $=$.

MA.1.A.2

Die Schülerinnen und Schüler können im Zahlenraum 10 flexibel zählen.

© Lehrmittel Boutique Marisa Herzog

Autorin: Monika Giuliani

Bild Titelseite:

Pixabay.com: <http://pixabay.com/> Lizenz CC0 Public Domain <https://pixabay.com/>